

**Проверочная работа
по МАТЕМАТИКЕ****5 класс****Вариант 1****Инструкция по выполнению заданий части 1 проверочной работы**

На выполнение заданий части 1 проверочной работы по математике отводится один урок (не более 45 минут). Часть 1 включает в себя 11 заданий.

Ответы на задания запишите в поля ответов в тексте работы. Если Вы хотите изменить ответ, зачеркните его и запишите рядом новый.

При выполнении работы не разрешается пользоваться учебниками, рабочими тетрадями, справочниками, калькулятором.

При необходимости можно пользоваться черновиком. Записи в черновике проверяться и оцениваться не будут.

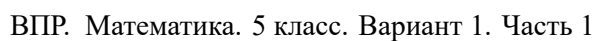
Советуем выполнять задания в том порядке, в котором они даны. В целях экономии времени пропускайте задание, которое не удаётся выполнить сразу, и переходите к следующему. Если после выполнения работы у Вас останется время, то Вы сможете вернуться к пропущенным заданиям.

Желаем успеха!*Таблица для внесения баллов участника**

Номер задания	1	2	3	4(1)	4(2)	5	6	7	8	9	10	11	Сумма баллов (за Часть 1)
Баллы													

* *Обратите внимание:* в случае, если какие-либо задания не могли быть выполнены целым классом по причинам, связанным с особенностями организации учебного процесса, в форме сбора результатов ВПР всем обучающимся класса за данные задания вместо баллов выставляется значение «Тема не пройдена». В соответствующие ячейки таблицы заполняется н/п.





КОД

Представъте число 7 в виде дроби со знаменателем 8.

Ответ:

В баке осталось ровно 18 л бензина, при этом бак заполнен на четверть. Сколько всего литров бензина помещается в бак?

Ответ:

Каким числом нужно заменить букву А, чтобы получилось верное равенство?

931: **A** = 49

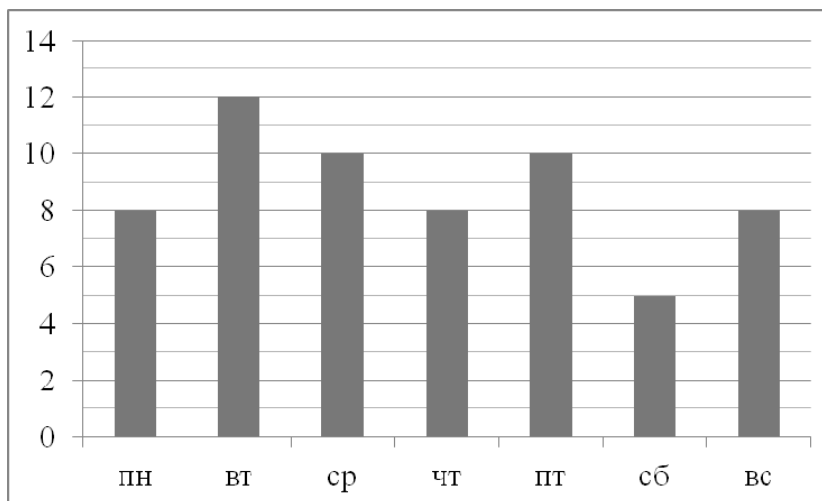
Ответ:





4

Маша в течение недели читала книгу. На диаграмме показано, сколько страниц она читала каждый день. По вертикали указано количество прочитанных страниц, по горизонтали — дни недели. Пользуясь этими данными, ответьте на вопросы.



1) Сколько страниц прочитала Маша во вторник?



Ответ:

2) На сколько страниц меньше Маша прочитала в четверг, чем во вторник?



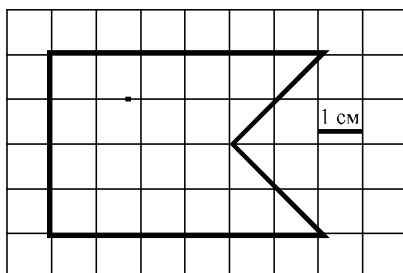
Ответ:





5

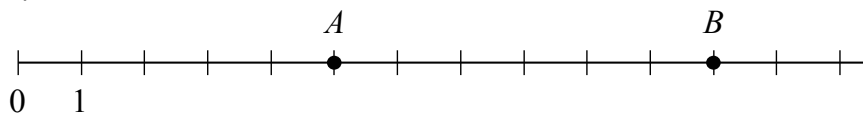
Бумага расчерчена на квадраты со стороной 1 см. Найдите площадь нарисованной фигуры. Ответ дайте в кв. см.



Ответ:

6

На числовом луче точками A и B отмечены два числа. Найдите, на сколько число B больше числа A .



Ответ:

7

Кошка съедает две упаковки корма за месяц. Сколько упаковок потребуется двум таким кошкам на 4 месяца?

Ответ:

8

Коробка имеет форму прямоугольного параллелепипеда длиной 65 см, шириной 56 см, высотой 50 см. Найдите объём коробки. Ответ дайте в кубических сантиметрах.

Ответ:





КОД

В четырёхзначном числе 723* последнюю цифру заменили звёздочкой. Известно, что это число делится на 9. Найдите число.

Ответ:

[illegible]

Укажите верное утверждение для каждого числа.

ЧИСЛА

УТВЕРЖДЕНИЯ

- A) 0,817
Б) 1,02
В) 0,151

- 1) Число больше единицы.
- 2) Число меньше, чем $\frac{1}{2}$.
- 3) Число больше, чем $\frac{1}{2}$, но меньше, чем 1.

В таблице под каждой буквой укажите номер утверждения.

Ответ:

A	Б	В

В двух упаковках всего 60 карандашей. В первой упаковке карандашей в 4 раза меньше, чем во второй. Сколько карандашей во второй упаковке?

Ответ:

[illegible]